


## Photoshop 图像处理 第8章 练习题

### 一、单选题





1. 如下图所示，绘制当前包装上的图标以及包装纸上的“心”形图标，最佳选用的工具是（ ）。

- 【A.】 “” 钢笔工具
- 【B.】 “” 画笔工具
- 【C.】 “” 铅笔工具
- 【D.】 “” 矩形工具


【答案】A






2. 如下图所示，绘制当前圆环时，中间的小圆应选择的图形运算是（ ）。

- 【A.】 “” 合并形状
- 【B.】 “” 减去顶层形状
- 【C.】 “” 与形状区域相交
- 【D.】 “” 排除重叠形状


【答案】B



3. 如下图所示，若要编辑路径上的“锚点”应使用的工具是（ ）。





- 【A.】 “” 路径选择工具
- 【B.】 “” 直接选择工具
- 【C.】 “” 移动工具
- 【D.】 “” 钢笔工具

【答案】B




## 二、多选题





1. 如下图所示，绘制当前包装上的图标以及包装纸上的“心”形图标，关于钢笔工具描述正确的是（ ）。

- 【A.】 “” 钢笔工具可以绘制不规则的形状
- 【B.】 “” 钢笔工具可以“添加锚点”
- 【C.】 “” 钢笔工具可以“删除锚点”
- 【D.】 “” 钢笔工具有“形状、路径、像素”三个选项设置

【答案】ABCD







2. 在绘制图形时，图形与图形之间常用的运算关系是（ ）。


- 【A.】 “” 合并形状
- 【B.】 “” 减去顶层形状
- 【C.】 “” 与形状区域相交
- 【D.】 “” 排除重叠形状

【答案】ABCD

3. 如下图所示，若要给图形添加“锚点”可使用的工具是（ ）。

- 【A.】 “” 转换点工具
- 【B.】 “” 删除锚点工具
- 【C.】 “” 添加锚点工具
- 【D.】 “” 钢笔工具

【答案】CD



### 三、判断题

1. “”钢笔工具可以绘制不规则的形状。

【A. 】 √

【B. 】 ×

【答案】A

2. 在绘制图形时，图形与图形之间不能产生运算关系。

【A. 】 √

【B. 】 ×

【答案】B

3. 绘制好的图形是不可以进行编辑的。

【A. 】 √

【B. 】 ×


【答案】B


4. 如下图所示，“”直接选择工具可以编辑路径上的“锚点”。

【A. 】 √

【B. 】 ×

【答案】A



5. 如下图所示，绘制当前圆环时，中间的小圆应选择的图形运算是  
“” 减去顶层形状。

【A. 】 ✓

【B. 】 ✕

【答案】A

